

Geografia

Sèrie 3

Escolliu UNA de les dues opcions (A o B).

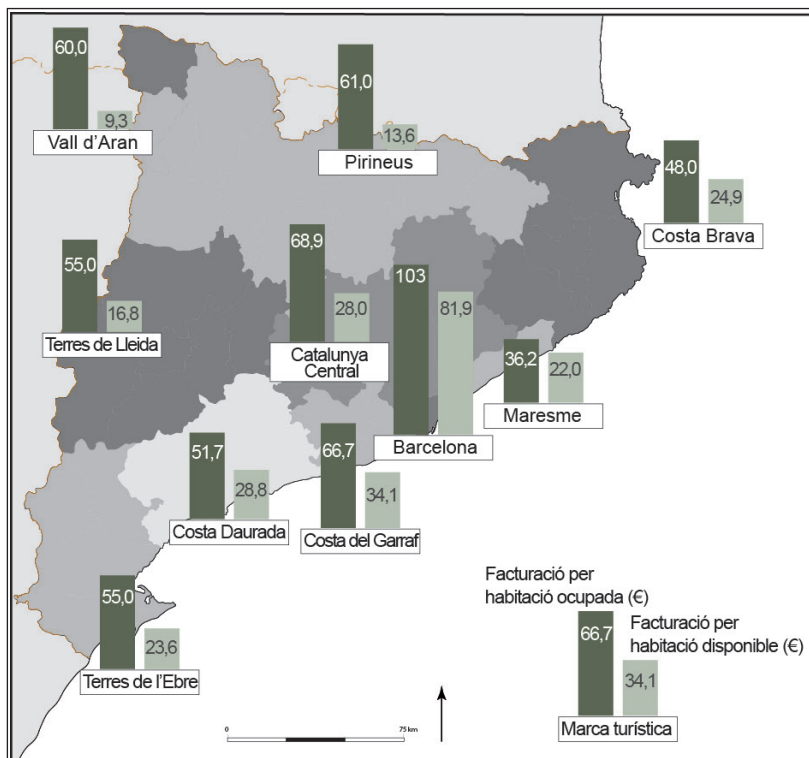
OPCIÓ A

Exercici 1

[5 punts en total]

Observeu el mapa següent i responeu a les qüestions plantejades.

*Facturació de la indústria hotelera catalana per marques turístiques
(abril del 2011)*



FONT: Adaptació feta a partir d'un mapa publicat en el *Diari de Girona* [en línia] (30 maig 2011).

1. Descriviu la informació representada en el mapa.
[1 punt]
2. Definiu els termes *bandera blava* i *turisme de masses*.
[1 punt]

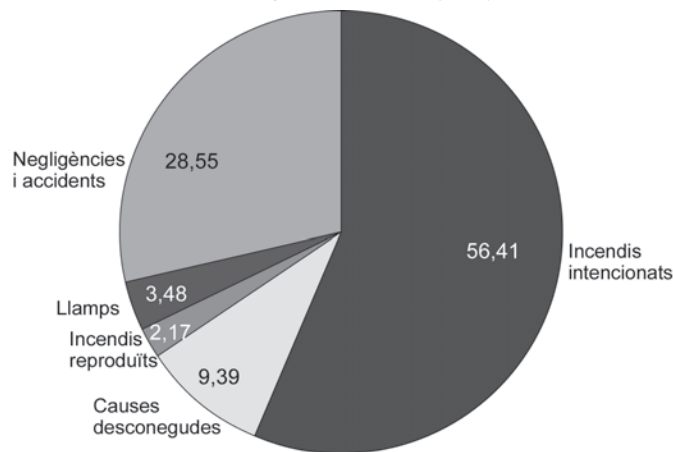
3. Respondeu a les qüestions següents relacionades amb el turisme:
[1,5 punts]
 - a) Quines són les causes de la gran diferència en els ingressos per habitació disponible entre Barcelona i la Costa Brava?
 - b) Quins tipus d'allotjament turístic es poden trobar en una ciutat com Barcelona? Quins tipus d'allotjament poden generar més conflictes amb el veïnat?
4. Exposeu la importància de l'activitat turística en l'economia catalana. Esmenteu els tipus de turisme principals que es practiquen a Catalunya segons el nombre de visitants i comenteu quines són les destinacions més importants.
[1,5 punts]

Exercici 2

[5 punts en total]

Observeu el gràfic següent i respondeu a les qüestions plantejades.

Causas dels incendis forestals a Espanya (2012) (%)



FONT: MINISTERIO DE AGRICULTURA, ALIMENTACIÓN Y MEDIO AMBIENTE. *Incendios forestales en España. Año 2012.*

1. Descriu la informació representada en el gràfic.
[1 punt]
2. Definiu els termes *risc antròpic* i *desforestació*.
[1 punt]
3. Analitzeu les causes i els factors que influeixen en els incendis forestals tenint en compte els aspectes següents:
 - A quin tipus de risc pertanyen els incendis? Argumenteu la resposta.
 - Quins són els principals agents causants dels incendis? Expliqueu-los i classifiqueu-los.
 - Quins altres factors, a més dels esmentats en el gràfic, influeixen en l'augment del risc d'incendi?
 [1,5 punts]
4. Relacioneu les condicions climàtiques amb els riscos naturals a Espanya tenint en compte els aspectes següents:
 - Quins són els principals riscos naturals existents?
 - Quina relació hi ha entre alguns riscos naturals i el clima mediterrani predominant a Espanya?
 - Les activitats humanes poden incrementar els riscos naturals? Justifiqueu la resposta.
 [1,5 punts]

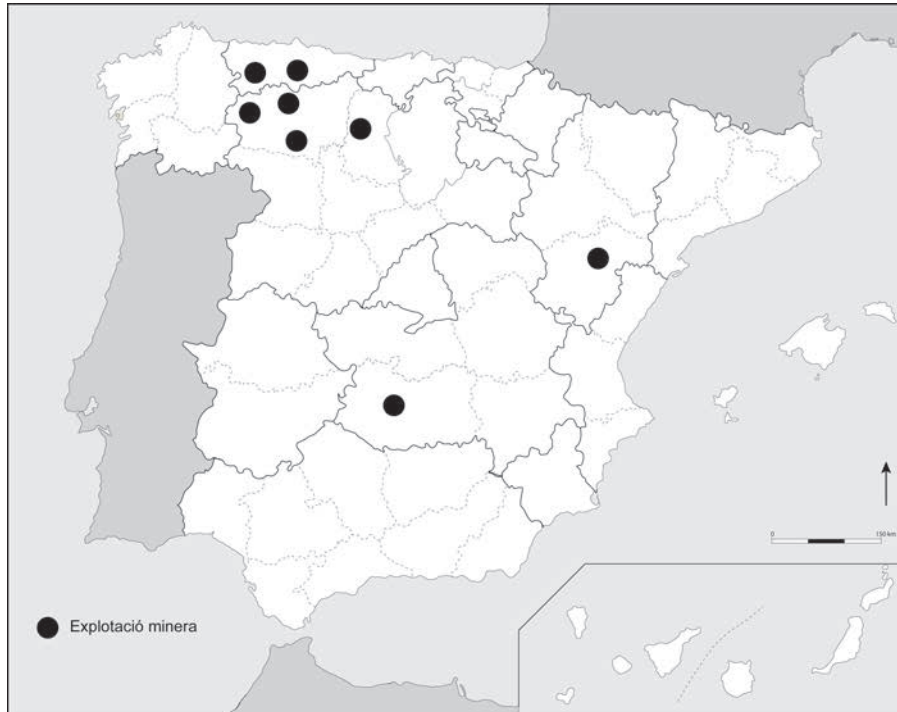
OPCIÓ B

Exercici 1

[5 punts en total]

Observeu el mapa següent i responeu a les qüestions plantejades.

Explotacions mineres productores de carbó a Espanya (2013)



FONT: Seu electrònica de l'Institut per a la Reestructuració de la Mineria del Carbó i Desenvolupament Alternatiu de les Comarques Míneres (IRMC).

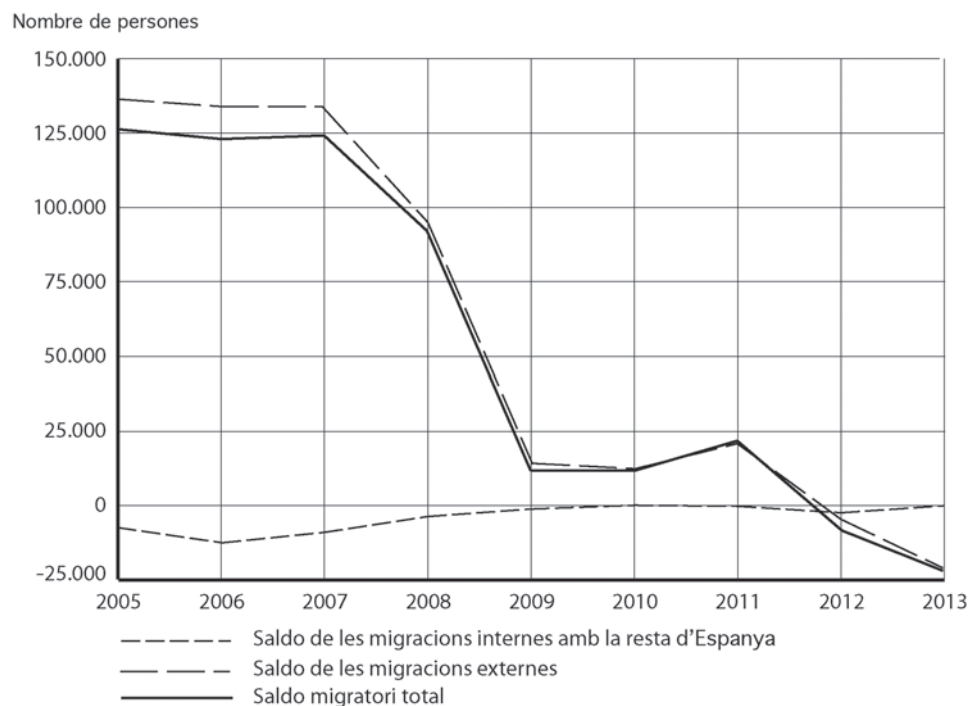
1. Descriviu la informació representada en el mapa i indiqueu les províncies on estan situades les mines de carbó.
[1 punt]
2. Definiu els termes *recurs renovable* i *indústria extractiva*.
[1 punt]
3. Per què ha desaparegut la mineria del carbó a Catalunya? On estava situada? El carbó és una font energètica renovable? Justifiqueu la resposta.
[1,5 punts]
4. El carbó ha estat un dels combustibles minerals fòssils més importants des de la revolució industrial. Expliqueu la realitat actual de la mineria del carbó tenint en compte els aspectes següents:
 - Com s'extreu el carbó i quins usos té?
 - Quina relació hi ha entre la combustió del carbó i el canvi climàtic?
 - Quin és el futur de la mineria del carbó a Espanya?[1,5 punts]

Exercici 2

[5 punts en total]

Observeu el gràfic següent i responeu a les qüestions plantejades.

Saldos migratoris a Catalunya (2005-2013)



FONT: Institut d'Estadística de Catalunya (Idescat).

1. Descriviu la informació representada en el gràfic.
[1 punt]
2. Definiu els termes *migració externa* i *saldo migratori*.
[1 punt]
3. Identifiqueu la causa del descens del saldo migratori total que mostra el gràfic i expliqueu com incideix en el fet migratori.
[1,5 punts]
4. Exposeu les característiques del darrer gran flux d'immigració a Catalunya tenint en compte els aspectes següents:
 - Quines són les causes d'aquest gran flux d'immigració i quins són els països de procedència dels immigrants?
 - En quins sectors econòmics i en quines comarques troben més feina els immigrants?
 - Quin impacte econòmic i demogràfic té la immigració?[1,5 punts]