



Proves d'accés a la universitat

Geografia

Sèrie 1

Opció d'examen

(Marqueu el quadre de l'opció triada)

OPCIÓ A



OPCIÓ B



Qualificació		
Exercici 1	1	
	2	
	3	
	4	
Exercici 2	1	
	2	
	3	
	4	
Suma de notes parcials		
Qualificació final		

Etiqueta identificadora de l'alumne/a

Etiqueta de qualificació

Ubicació del tribunal

Número del tribunal

Convocatòria 2017

Escolliu UNA de les dues opcions (A o B).

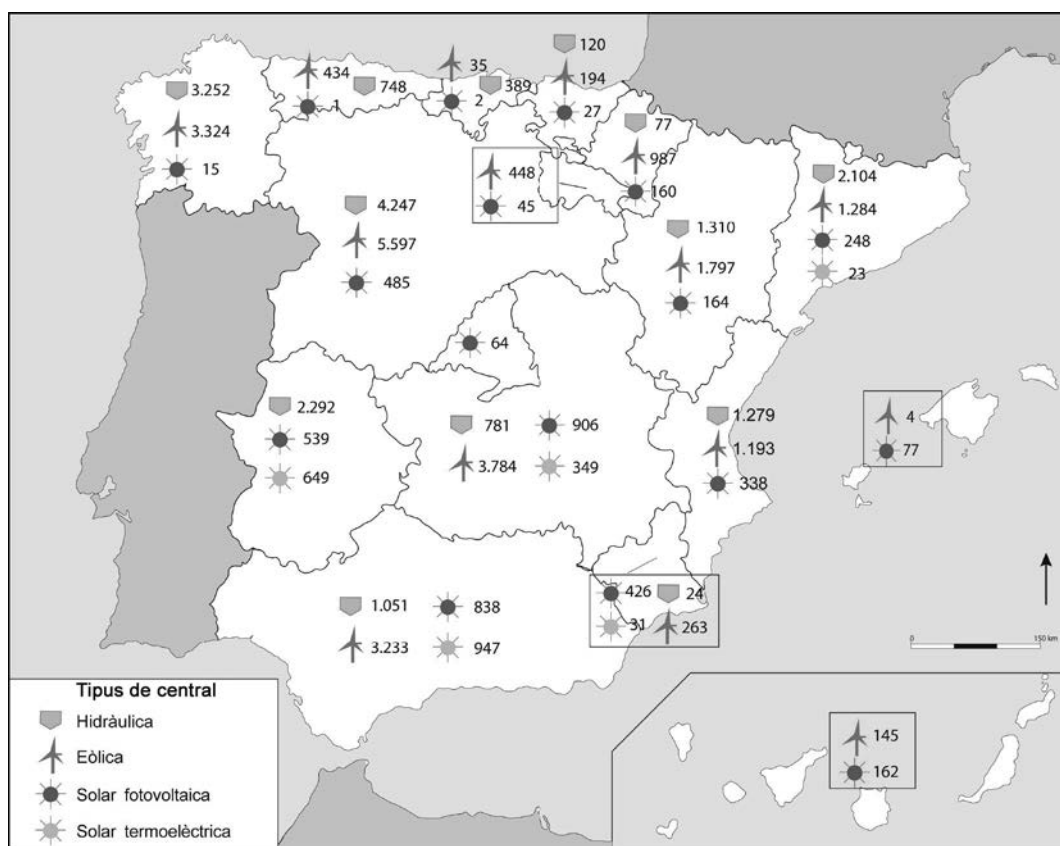
OPCIÓ A

Exercici 1

[5 punts en total]

Observeu el mapa següent i responeu a les qüestions plantejades.

Potència total (en MW) de les centrals elèctriques de fonts renovables a l'Estat espanyol per comunitats autònomes (2012)



FONT: Adaptació d'un mapa publicat per Red Eléctrica de España a *El sistema eléctrico español* [en línia], 2012.

1. Descriviu la informació representada en el mapa.

[1 punt]

2. Definiu els termes *energia renovable* i *biomassa*.

[1 punt]

energia renovable:

biomassa:

3. Justifiqueu en quina mesura són vertaderes o falses les afirmacions següents:

[1,5 punts]

a) Les centrals que funcionen amb biomassa no contaminen ni contribueixen a l'efecte d'hivernacle.

b) L'energia hidràulica no és una energia sostenible.

c) L'energia nuclear no contribueix al canvi climàtic i és sostenible.

4. Descriu les característiques de l'energia eòlica a Espanya tenint en compte els aspectes següents:
- Quines condicions han de complir les àrees d'implantació dels parcs eòlics?
 - Quina importància té l'energia eòlica en el conjunt de l'energia elèctrica produïda a Espanya?
 - Quins avantatges i quins inconvenients té aquest tipus d'energia?

[1,5 punts]

Exercici 2

[5 punts en total]

Observeu la taula següent i responeu a les qüestions plantejades.

Ocupació hotelera mensual (2014) (%)

	<i>Gen.</i>	<i>Febr.</i>	<i>Març</i>	<i>Abr.</i>	<i>Maig</i>	<i>Juny</i>	<i>Jul.</i>	<i>Ag.</i>	<i>Set.</i>	<i>Oct.</i>	<i>Nov.</i>	<i>Des.</i>
Costa del Sol (Màlaga)	40,2	48,3	49,5	59,1	60,8	68,2	74,2	83,9	72,8	62,0	44,6	38,9
Illa de Mallorca	30,2	42,9	51,3	62,9	61,5	81,8	88,7	92,4	84,0	62,9	46,3	41,9
Sud de Tenerife	80,9	82,8	80,4	74,8	68,5	74,5	80,2	85,4	76,9	81,5	77,9	74,2
Costa Brava	28,5	31,4	40,3	47,6	43,6	57,4	68,4	82,0	61,7	50,4	33,9	30,7
Costa Daurada	18,9	24,5	33,5	50,1	48,6	68,2	77,1	84,3	69,9	48,0	27,6	29,2
Costa Blanca (Alacant)	42,4	50,1	54,1	66,3	66,2	74,1	79,0	89,0	77,3	67,1	52,6	45,2

FONT: INSTITUTO NACIONAL DE ESTADÍSTICA. *Encuesta de ocupación hotelera 2014.*

1. Descriviu la informació representada en la taula.

[1 punt]

2. Definiu els termes *ecoturisme* i *estacionalitat turística*.

[1 punt]

ecoturisme:

estacionalitat turística:

3. Quin tipus de turisme es practica en les destinacions representades en la taula? Quines són les causes que l'ocupació hotelera sigui irregular al llarg de l'any i quines conseqüències comporta aquest fet?

[1,5 punts]

4. Esmenteu tres tipus de turisme alternatiu al turisme de sol i platja i exposeu les activitats que caracteritzen cadascun d'aquests tres tipus.
[1,5 punts]

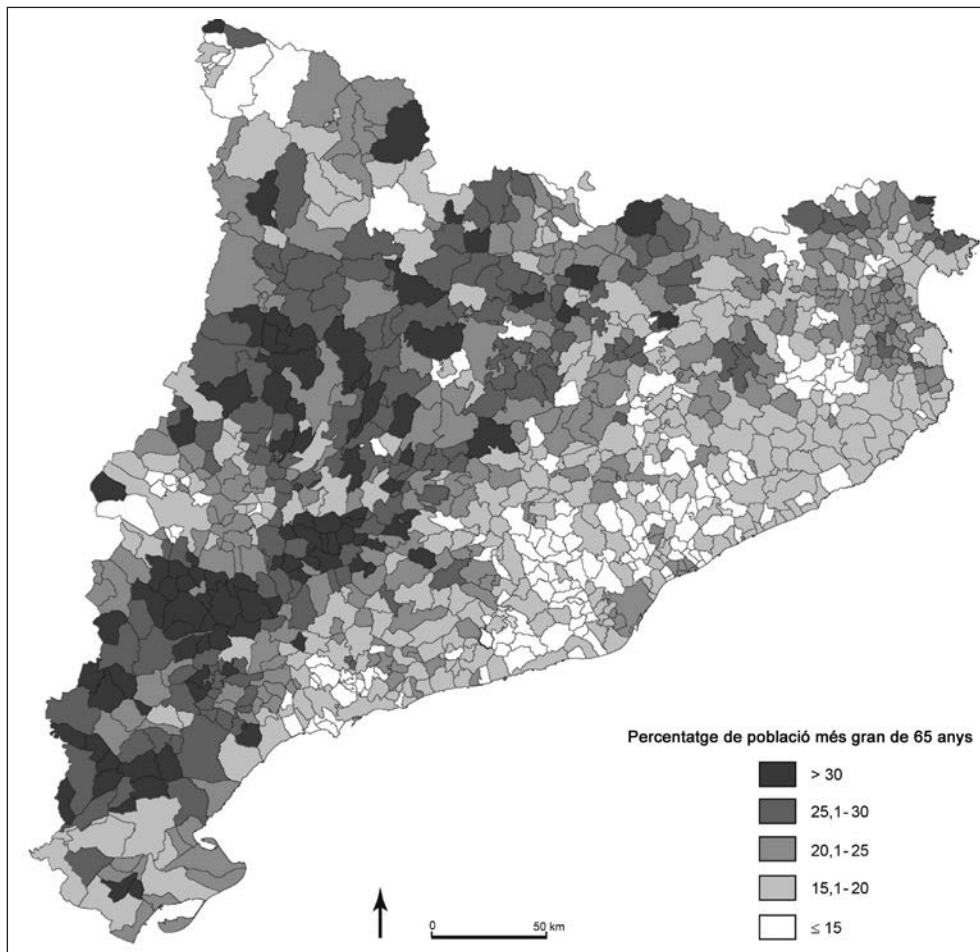
OPCIÓ B

Exercici 1

[5 punts en total]

Observeu el mapa següent i responeu a les qüestions plantejades.

Distribució de la població més gran de 65 anys a Catalunya (2015)



FONT: FUNDACIÓ DEL MÓN RURAL. *Atles de la nova ruralitat* [en línia], 2015.

1. Descriviu la informació representada en el mapa.

[1 punt]

2. Definiu els termes *padró municipal d'habitants* i *taxa de dependència*.

[1 punt]

padró municipal d'habitants:

taxa de dependència:

3. En alguns municipis i en algunes comarques hi ha un percentatge elevat de població més gran de 65 anys, superior al 30 %. Expliqueu les causes d'aquesta situació i el fenomen migratori que l'ha provocada.

[1,5 punts]

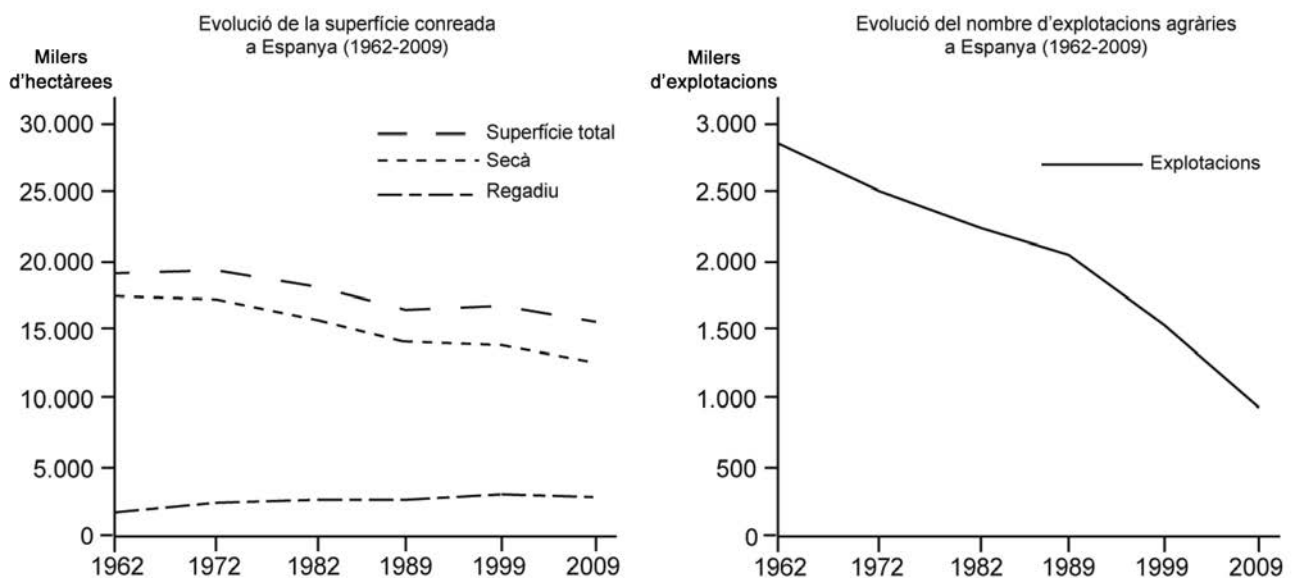
4. A curt i a mitjà termini, quines seran les conseqüències demogràfiques i territorials de l'envelliment de la població? Quines possibilitats hi ha d'invertir aquesta tendència?
[1,5 punts]

Exercici 2

[5 punts en total]

Observeu els gràfics següents i responeu a les qüestions plantejades.

Evolució de la superfície conreada i del nombre d'explotacions agràries a Espanya (1962-2009)



FONT: Elaboració pròpia a partir de dades publicades per l'Institut Nacional d'Estadística (INE) al *Censo Agrario de España*, 2012.

1. Descriviu la informació representada en els gràfics.

[1 punt]

2. Definiu els termes *explotació agrària* i *tinença indirecta de la terra*.

[1 punt]

explotació agrària:

tinença indirecta de la terra:

3. Expliqueu els factors econòmics, socials i tècnics que han influït en l'evolució de les variables representades en els gràfics.

[1,5 punts]

4. Responen a les qüestions següents relacionades amb el treball agrari espanyol:

[1,5 punts]

a) En què es diferencien l'agricultura familiar, l'agricultura a temps parcial i el treball agrícola assalariat?

b) A quines zones d'Espanya es localitza principalment cadascun dels tipus d'agricultura esmentats en la pregunta anterior? A què es deu aquesta distribució?

Etiqueta del corrector/a



--	--

--	--

Etiqueta identificadora de l'alumne/a



Institut
d'Estudis
Catalans